

BACCALAURÉAT GÉNÉRAL

ÉPREUVE D'ENSEIGNEMENT DE SPÉCIALITÉ

SESSION 2025

Sciences économiques et sociales

Mardi 9 septembre 2025

Durée de l'épreuve : 4h00

L'usage de la calculatrice et du dictionnaire n'est pas autorisé

Dès que le sujet est remis, assurez-vous qu'il est complet.

Ce sujet comporte **10** pages numérotées de **1/10** à **10/10**.

Le candidat traite au choix le sujet de dissertation ou l'épreuve composée.

Il indique sur sa copie le sujet choisi.

Dissertation s'appuyant sur un dossier documentaire

Il est demandé au candidat :

- *de répondre à la question posée par le sujet ;*
- *de construire une argumentation à partir d'une problématique qu'il devra élaborer ;*
- *de mobiliser des connaissances et des informations pertinentes pour traiter le sujet, notamment celles figurant dans le dossier ;*
- *de rédiger, en utilisant le vocabulaire économique et social spécifique approprié à la question et en organisant le développement sous la forme d'un plan cohérent qui ménage l'équilibre des parties.*

Il sera tenu compte, dans la notation, de la clarté de l'expression et du soin apporté à la présentation.

SUJET

Ce sujet comporte quatre documents.

Dans quelle mesure les effets induits par le commerce international justifient-ils le recours au protectionnisme ?

DOCUMENT 1

Ce mardi, la Maison Blanche a annoncé une augmentation marquée des droits de douane appliqués à l'équivalent de 18 milliards de dollars de produits chinois.

Ces nouveaux droits de douane concernent près d'une dizaine de secteurs industriels considérés comme « stratégiques ». Les voitures électriques voient par exemple leurs droits de douane passer de 25 % à 100 %. Il est peu probable que cela porte un coup immédiat aux constructeurs automobiles chinois, qui ne sont pas très présents aux États-Unis. Mais les autorités semblent vouloir se prémunir contre des importations chinoises.

Au-delà du quadruplement sur les véhicules électriques, Washington fait passer ceux visant l'acier et l'aluminium de 7,5 % à 25 %, tout comme pour les batteries, et ceux pour les semi-conducteurs de 25 % à 50 %, également appliqués désormais aux panneaux solaires et certains produits médicaux.

[...] La directrice du Conseil national économique rattaché à la Maison Blanche, Lael Brainard, a justifié ces choix par le fait que la Chine « finance sa croissance aux dépens des autres ».

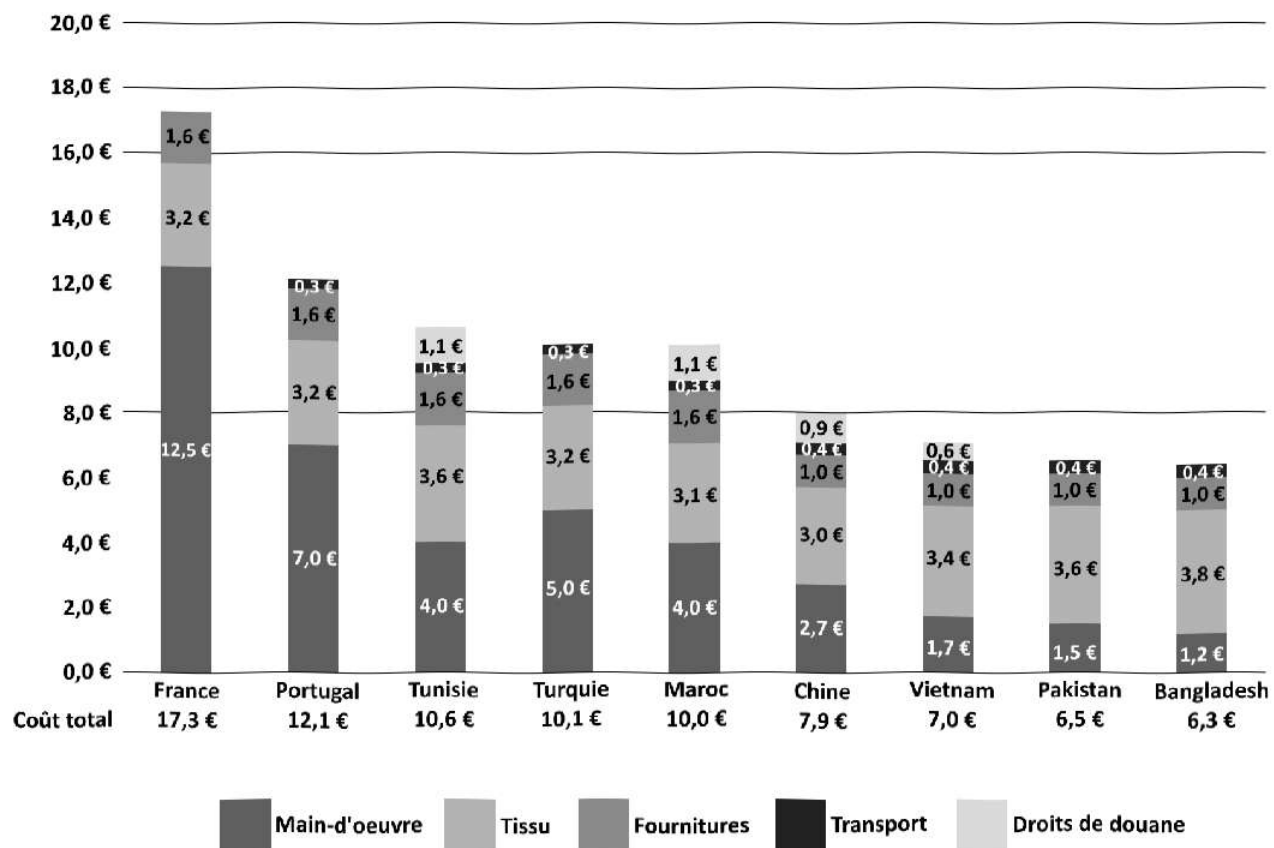
[...] Les mesures tarifaires s'inscriraient également dans le prolongement d'initiatives antérieures, telles que la récente enquête sur les risques pour la sécurité nationale posés par les technologies chinoises dans le domaine de l'automobile.

[...] À l'inverse des États-Unis, la France calme le jeu avec la Chine. Le président français Emmanuel Macron a remercié, en mai, son homologue chinois Xi Jinping de ne pas imposer de taxes douanières « provisoires » contre le cognac français, après lui en avoir offert des bouteilles à l'occasion de sa visite d'État en France. « Je remercie le président aussi de son ouverture quant aux mesures provisoires sur le cognac français et son souhait de ne pas les voir appliquées », a dit le chef de l'État français devant la presse, au côté du numéro un chinois, au terme de leur entretien en tête-à-tête à Paris.

Source : d'après « Les États-Unis frappent fort contre les voitures électriques chinoises : les droits de douane grimpent à 100 % », *La Tribune*, 14 mai 2024.

DOCUMENT 2

Décomposition du coût total d'un pantalon « *jean* basique homme tissu asiatique »
vendu en France selon le pays de production, en euros¹



Source : d'après Institut Français de la Mode, www.fashionnetwork.com, 2018.

1 : En raison des arrondis, la somme des coûts peut être légèrement différente du coût total.

DOCUMENT 3

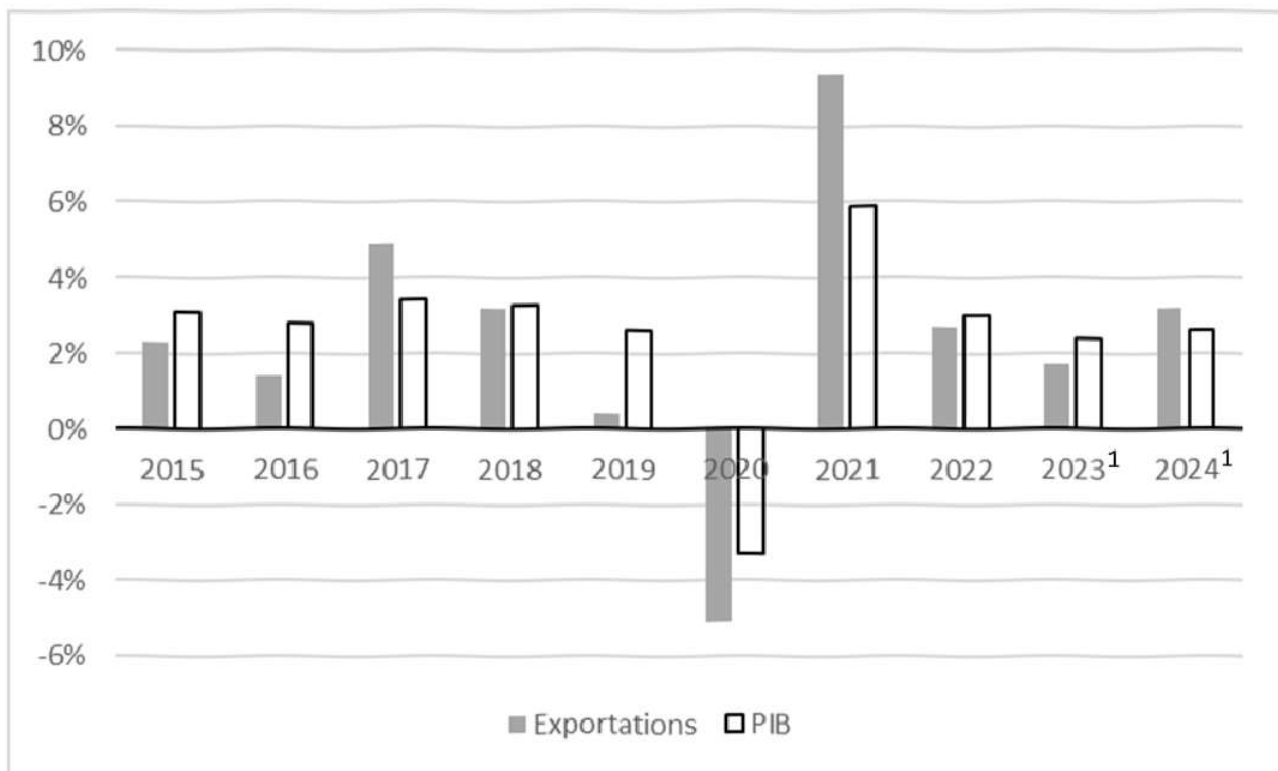
Coefficients de Gini des revenus

	1992	2002	2012	2022
France	0,44	0,45	0,44	0,46
États-Unis	0,52	0,54	0,58	0,63
Chine	0,46	0,53	0,55	0,57
Afrique du Sud	0,60	0,66	0,75	0,75
Japon	0,47	0,54	0,54	0,54
Inde	0,47	0,53	0,63	0,63
Monde	0,70	0,70	0,68	0,67

Source : d'après *World Inequality Database*, 2024.

DOCUMENT 4

Taux de croissance annuels des exportations mondiales et du PIB mondial (données en %)



1 : Prévisions.

Source : d'après Organisation Mondiale du Commerce, 2023.

Épreuve composée

Cette épreuve comprend trois parties :

Partie 1 - Mobilisation des connaissances : il est demandé au candidat de répondre à la question en faisant appel à ses connaissances acquises dans le cadre du programme.

Partie 2 - Étude d'un document : il est demandé aux candidats de répondre aux questions en mobilisant ses connaissances acquises dans le cadre du programme et en adoptant une démarche méthodologique rigoureuse, de collecte et de traitement de l'information.

Partie 3 - Raisonnement s'appuyant sur un dossier documentaire : il est demandé au candidat de traiter le sujet :

- en développant un raisonnement ;*
- en exploitant les documents du dossier ;*
- en faisant appel à ses connaissances personnelles ;*
- en composant une introduction, un développement, une conclusion.*

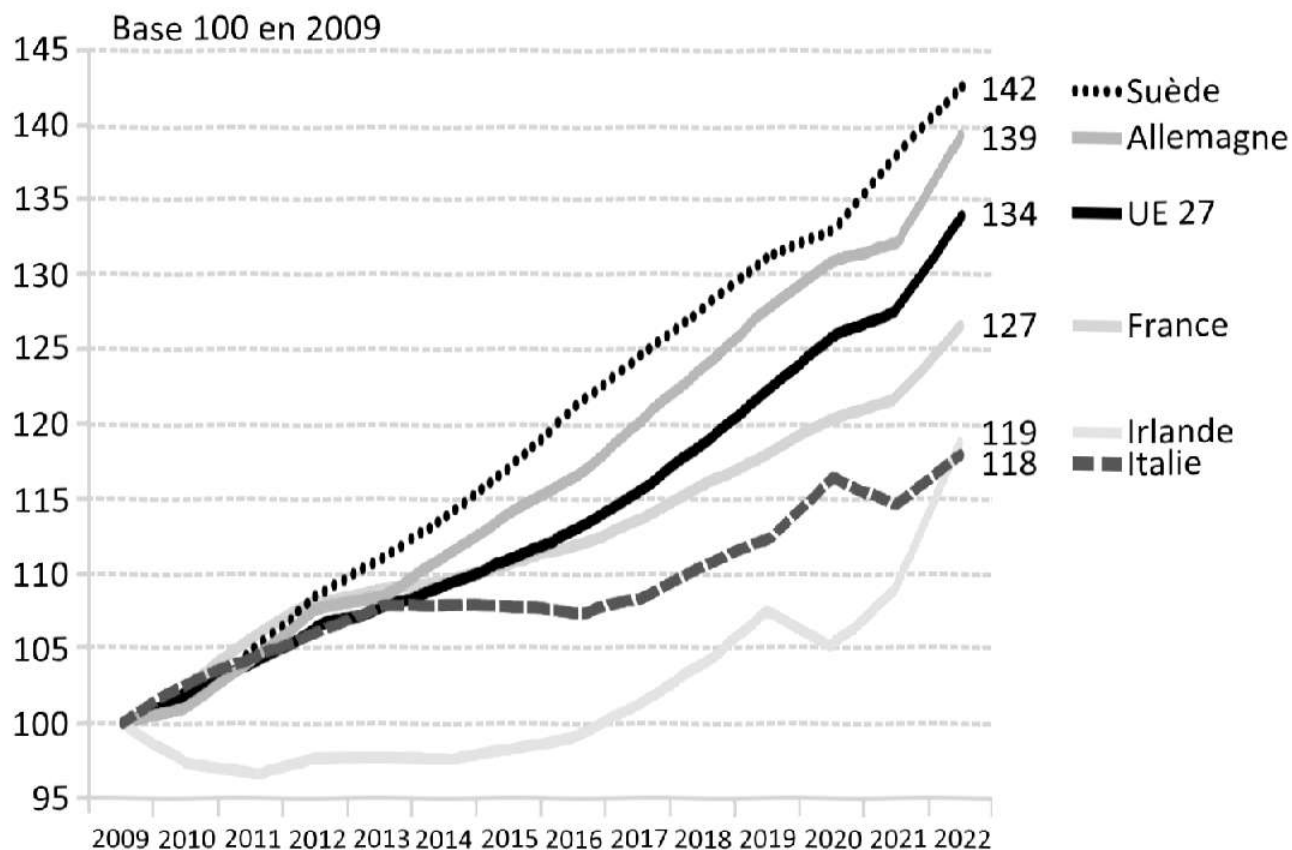
Il sera tenu compte, dans la notation, de la clarté de l'expression et du soin apporté à la présentation.

Première partie : Mobilisation des connaissances (4 points)

Présentez deux limites des tables de mobilité comme instrument de mesure de la mobilité sociale.

Deuxième partie : Étude d'un document (6 points)

Indice du coût horaire du travail, base 100 en 2009



Source : Direction de la sécurité sociale, *Rapport d'évaluation des politiques de sécurité sociale*, 2024.

Questions :

1. À l'aide des données du document, vous comparerez les évolutions des coûts horaires du travail de la Suède et de l'Italie. (2 points)
2. À l'aide du document et de vos connaissances, vous présenterez deux politiques différentes pouvant être mises en œuvre pour lutter contre le chômage. (4 points)

Troisième partie : Raisonnement s'appuyant sur un dossier documentaire (10 points)

Cette partie comporte trois documents.

Sujet : À l'aide de vos connaissances et du dossier documentaire, vous montrerez que l'action collective est diversifiée.

DOCUMENT 1

« *Mon corps, mes choix, mes droits* » : plusieurs milliers de personnes, en grande partie des femmes, ont défilé, vendredi 8 mars, à Paris et dans près de 200 villes de France, à l'occasion de la Journée internationale des droits des femmes. [...] Comme tous les 8 mars, ces rassemblements étaient l'occasion pour les associations de défiler pour défendre les droits des femmes et l'égalité avec les hommes, notamment dans le monde professionnel, et de dénoncer les violences sexuelles. « *IVG, PMA¹, c'est mon corps, c'est mon choix* », ont notamment scandé des manifestantes qui se sont retrouvées en début d'après-midi place Gambetta, à Paris, peu après la cérémonie de scellement² de l'inscription dans la Constitution de la « liberté garantie » d'accès à l'interruption volontaire de grossesse (IVG), organisée à la mi-journée place Vendôme, en présence d'Emmanuel Macron et de nombreuses figures du féminisme. Plusieurs personnalités du monde politique et syndical ont participé au défilé, ainsi que l'actrice Judith Godrèche, équipée d'une pancarte « *silence, les femmes hurlent* ». La secrétaire générale de la CGT, Sophie Binet, a revendiqué 100 000 manifestants dans les rues de la capitale, tandis que la préfecture de police a estimé la participation à 28 000 personnes [...] Dans les cortèges, les inégalités salariales, comme la défense du droit à l'IVG, faisaient également partie des sujets porteurs.

Source : « Journée internationale des droits des femmes : plusieurs milliers de manifestantes dans les rues de France », www.lemonde.fr, 8 mars 2024.

1 : Procréation médicalement assistée, qui désigne l'ensemble des techniques médicales permettant de concevoir un enfant lorsque la conception naturelle est difficile voire impossible. La loi du 2 août 2021 a élargi la PMA à toutes les femmes ayant un projet parental, aux couples homosexuels comme aux femmes célibataires.

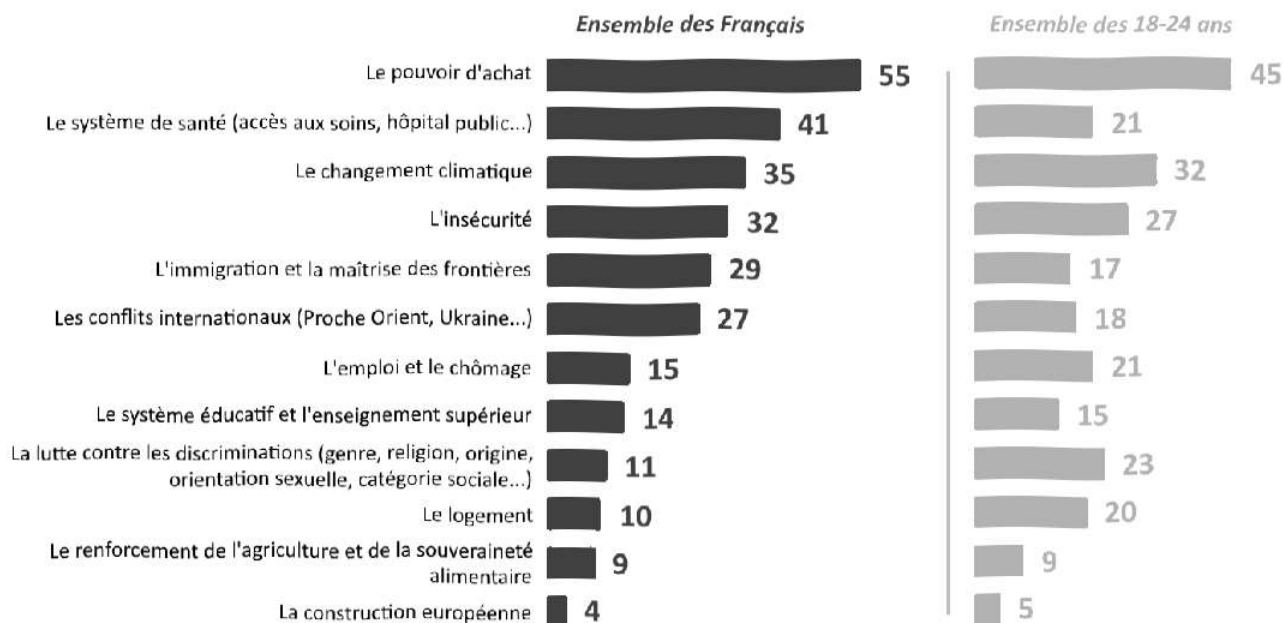
2 : La cérémonie de scellement consiste à apposer le sceau de la République sur un texte de loi.

DOCUMENT 2

Une préoccupation forte pour le pouvoir d'achat

Parmi les enjeux suivants, quels sont les trois qui vous préoccupent le plus à titre personnel ?

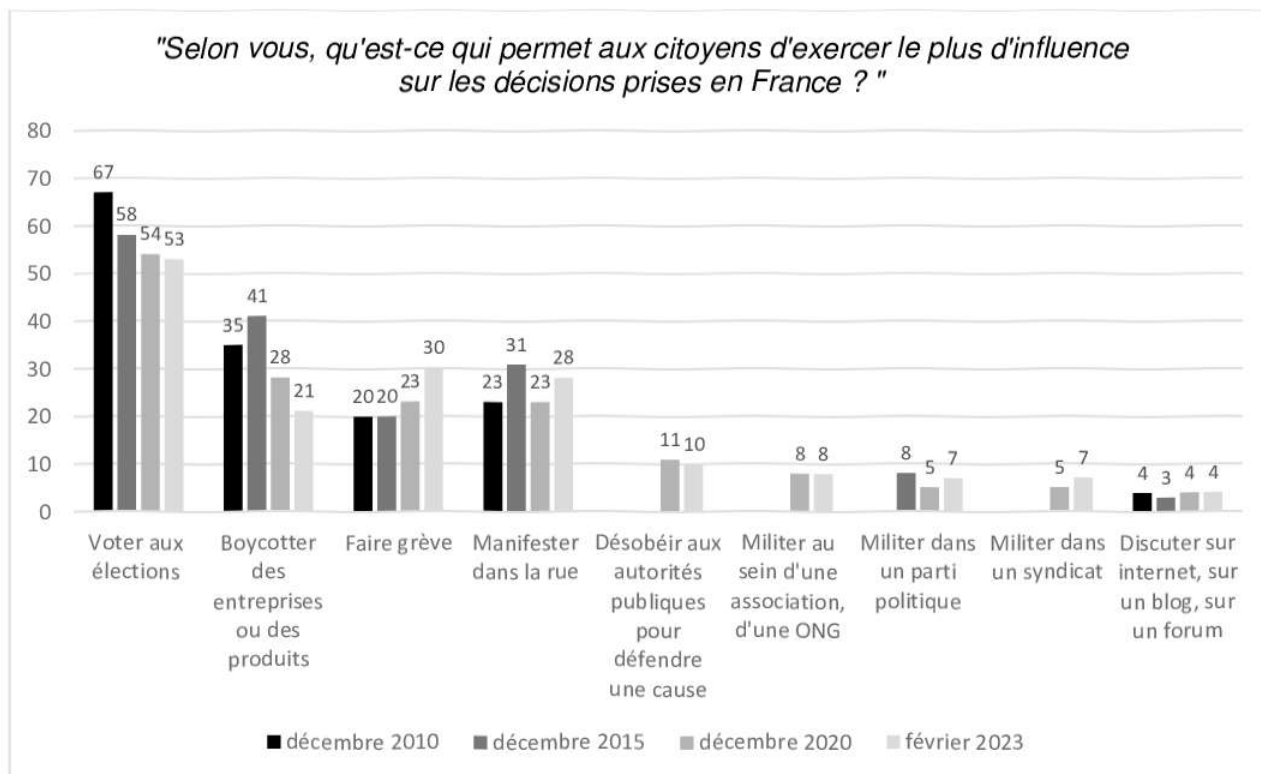
(Total supérieur à 100 % car 3 réponses possibles)



Source : IPSOS, Jeunesse et politique, février 2024.

DOCUMENT 3

Les moyens d'expression des citoyens



Source : CEVIPOF, *Baromètre de la confiance politique*, février 2023.

Champ : l'étude a été réalisée auprès d'un échantillon de 3 072 personnes inscrites sur les listes électorales représentatif de la population française âgée de 18 ans et plus.

Note : les années pour lesquelles il n'y a pas de données n'ont pas fait l'objet d'une enquête.